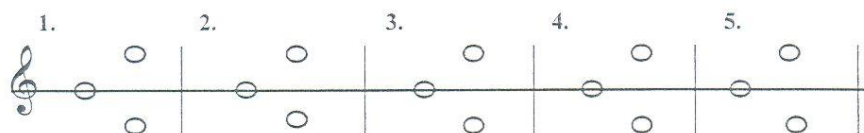
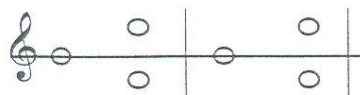


### Úloha č. 1

Zaznačte, či zaznel tón vyššie alebo nižšie od ostinátneho (stále znejúceho) tónu.

Správnou odpoveď označte krížikom.

Príklad:

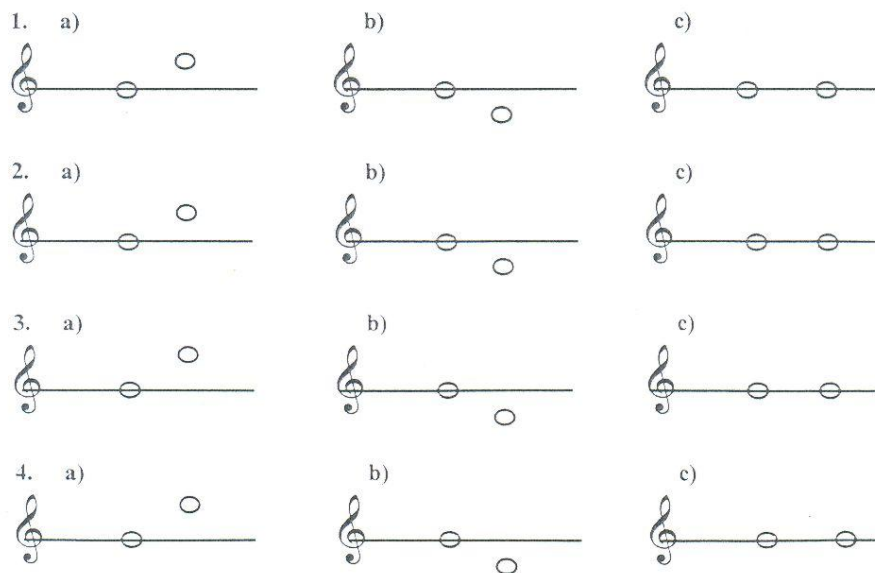


### Úloha č. 2

Označte v každom príklade jednu z troch možností:

druhý tón je a) vyšší b) nižší c) taký istý ako tón prvý:

Príklad:




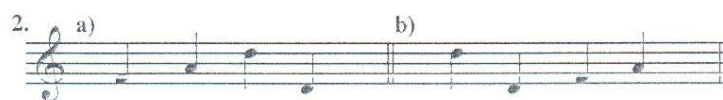




### Úloha č. 3

V každom príklade zaznejú štyri rôzne tóny.

Z dvoch možností vyberte a označte správny notový zápis:

Ukážka:



### Úloha č.4

Budete počít' pět jednoduchých rytmických příkladov v párnom dvojdobom takte.

Z uvedených možností označte správný rytmický zápis:

Příklad:

a)



b)




1. a)



b)



2. a)



b)



3. a)



b)



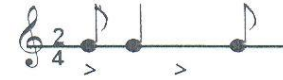
4. a)



b)



5. a)




b)





### Úloha č. 5


Budete počít' pět' rytmických příkladov v trojdobom a štvordobom takte. Označte z dvoch možností správnú:

Příklady:


a) 


b) 


a) 

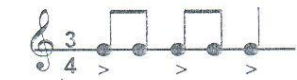
b) 


---


1. a) 


b) 


2. a) 


b) 


3. a) 

b) 

4. a) 

b) 

5. a) 

b) 

Úloha č.6

Budete počít' pět melodických příkladů. Označte správný notový zápis:

Ukážka:

a) b)

1. a) b)

2. a) b)

3. a) b)

4. a) b)

5. a) b)

### Úloha č.7

Budete počúť úryvok ľudovej piesne. Označte jej notový zápis:



### Úloha č. 8

V každom príklade označte koľko tónov počujete znieť:

Príklad:

- a) 1 tón      b) 2 tóny      c) 3 tóny      d) 4 tóny
- 

- |    |          |           |           |           |
|----|----------|-----------|-----------|-----------|
| 1. | a) 1 tón | b) 2 tóny | c) 3 tóny | d) 4 tóny |
| 2. | a) 1 tón | b) 2 tóny | c) 3 tóny | d) 4 tóny |
| 3. | a) 1 tón | b) 2 tóny | c) 3 tóny | d) 4 tóny |
| 4. | a) 1 tón | b) 2 tóny | c) 3 tóny | d) 4 tóny |
| 5. | a) 1 tón | b) 2 tóny | c) 3 tóny | d) 4 tóny |

### Úloha č. 9

Budete počuť dva rôzne druhy akordov. Prvý je durový akord a druhý je molový akord. V príkladoch označte, ktorý z týchto dvoch akordov počujete:

Príklad:

- a) dur      b) mol
- 

- |    |        |        |
|----|--------|--------|
| 1. | a) dur | b) mol |
| 2. | a) dur | b) mol |
| 3. | a) dur | b) mol |
| 4. | a) dur | b) mol |
| 5. | a) dur | b) mol |

1. Označte, v ktorom roku prišli na naše územie sv. Cyril a Metod:

- a) 663
- b) 763
- c) 863
- d) 963

2. Zoradte obdobia v správnom poradí. Začnite od najstaršieho:  
stredovek, novovek, pravek, starovek

- a) \_\_\_\_\_
- b) \_\_\_\_\_
- c) \_\_\_\_\_
- d) \_\_\_\_\_

3. Ktorý z uvedených umelcov už nežije?

- a) Lucie Bílá
- b) Bohdan Warchal
- c) Marián Lapšanský
- d) Jiří Bělohávek

4. Ktoré dielo sem nepatrí?

- a) Čert a Káča
- b) Dracula
- c) Mnišky
- d) Kleopatra

5. Ktorý z uvedených názvov nie je ostrov?

- a) Korzika
- b) Sardínia
- c) Korfu
- d) Peloponéz